


C.E.B.N.G. NOAN'S

7th Grade Homeworks may 11 to may 15

CLASS	MONDAY	TUESDAY	WEDNESDAY	THURSDAY	
Avisos					
ESPAÑOL	Revisión del resumen y material para exposición	Comienzan las exposiciones			
LANGUAGE			Repasar el tema de tema "The Clock" Las personas que aún faltan: Llevar un plato plástico y una tachuela.		
ENGLISH			Buscar una lista de 20 palabras con su respectivo sinónimo y antónimo.		



C.E.B.N.G. NOAN'S


PHONICS	Enviar el video sobre Possessions, deben ser mínimo 10 ejemplos. <ul style="list-style-type: none">• Deben salir en el video y no solo que se escuche su voz.				
----------------	---	--	--	--	--

CLASS	MONDAY	TUESDAY	WEDNESDAY	THURSDAY	FRIDAY
-------	--------	---------	-----------	----------	--------



C.E.B.N.G. NOAN'S

CÍVICA				<p>Investigue los requisitos para contraer matrimonio por lo civil y por la iglesia en Honduras.</p> <p>Ejemplo:</p> <p>Matrimonio civil en Honduras:</p> <p>Partidas de nacimiento de ambos contrayentes.</p> <p>Matrimonio por la iglesia</p> <p>Curso prematrimonial</p> <p>(recordatorio de la tarea)</p>	
--------	--	--	--	--	--




C.E.B.N.G. NOAN'S

TECNOLOGÍA				<p>Tarea:</p> <p>Mire el siguiente video sobre <i>"Inteligencia Artificial: el alto costo ambiental del progreso digital global"</i> y responda las preguntas relacionadas con el contenido, explicando con sus propias palabras</p> <p>Inteligencia Artificial: el alto costo</p> <p>(HAGA CLICK PARA VER EL VIDEO)</p> <p>Qué es la inteligencia artificial y cómo se relaciona con el progreso digital?</p> <p>¿Por qué se dice que la inteligencia artificial tiene un costo ambiental?</p>	
------------	--	--	--	--	--





C.E.B.N.G. NOAN'S

				<p>¿Cómo afectan los centros de datos al consumo de energía?</p> <p>¿Qué tipo de recursos naturales se utilizan para mantener funcionando la IA?</p> <p>¿De qué manera la IA contribuye a las emisiones de carbono?</p> <p>(recordatorio de la tarea)</p>	
MATEMÁTICAS		<p>Ver los siguientes videos y realizar la hoja de trabajo del final de la agenda:</p> <ul style="list-style-type: none"> • https://youtu.be/HsWwLEaGKMk?si=x2PabUD2jDk-pHIY • https://youtu.be/s32TGGparF0?si=pnhHR4pcQr-dUALi 			



C.E.B.N.G. NOAN'S

ART	<p>Traer una bolsa plástica pequeña, hisopos, chapas de botella, una camisa vieja, el plato, la esponja, el tenedor plástico y la base para sus dibujo (si la tienen)</p> 				
-----	---	--	--	--	--



C.E.B.N.G. NOAN'S

Hoja de Trabajo Matemáticas 7mo grado

Miss Mirehya Godoy

1. Resuelva las siguientes sumas y restas de fracciones con igual denominador y simplifique si es necesario:

a)	$\frac{3}{5}$	+	$\frac{6}{5}$	=					b)	$\frac{8}{12}$	-	$\frac{6}{12}$	=					
c)	$\frac{10}{16}$	+	$\frac{4}{16}$	=					d)	$\frac{9}{8}$	-	$\frac{6}{8}$	=					
e)	$\frac{8}{2}$	+	$\frac{12}{2}$	=					f)	$\frac{5}{3}$	-	$\frac{2}{3}$	=					
g)	$\frac{10}{20}$	+	$\frac{8}{20}$	=					h)	$\frac{8}{13}$	-	$\frac{7}{13}$	=					
i)	$\frac{9}{6}$	+	$\frac{6}{6}$	=					j)	$\frac{20}{32}$	+	$\frac{5}{32}$	-	$\frac{15}{32}$	=			