




Guías de estudio

4to grado



El adverbio

1. Escribe el adverbio que hace falta para completar la oración

1. Hace _____ frío en la calle, ponte el abrigo.
2. Yo _____ he ido a Madrid.
3. He dejado las llaves _____ del cajón.
4. _____ llueva mañana.
5. Si vamos tan _____ no llegaremos a tiempo.
6. _____ no fui a trabajar porque era domingo.
7. Marina _____ ha hecho los deberes.
8. Gema siempre llega _____ a clase.
9. El supermercado está _____ de la gasolinera.
10. _____ no vaya a casa de Pedro mañana.

La coma

2. Enumera los elementos utilizando la coma correctamente.

- a) En el puesto de frutas compré: _____

- b) Los animales que más me gustan son: _____

- c) Hoy quiero comer: _____

- d) Los colores que me gustan son: _____

Las preposiciones y conjunciones

3. Completa las oraciones con las preposiciones (a, de, desde, en).

1. Yo vivo _____ Dallas, TX. 
2. Mi abuela es _____ México.
3. El lunes no voy _____ la escuela. 
4. Jugaremos _____ tu casa. 
5. Dale las calificaciones _____ tu mamá. 
6. Este lápiz es _____ madera. 
7. Viajaré _____ avión. 
8. Te estamos esperando _____ hace rato. 
9. No sé _____ quién es esta tarea. 
10. Camino _____ la escuela hasta a mi casa.

4. Ordena las palabras de forma correcta (si son preposiciones o conjunciones).

ante	por	luego	sin	mas
según	porque	pero	pues	bajo
a	y	para	aunque	o
contra	hasta	ni		

PREPOSICIONES

CONJUNCIONES

Grammar Study Guide

Complete the following sentences by writing the correct article.

a

an

1. It is _____ bag.




2. It is _____ iron.

3. It is _____ pumpkin.



4. It is _____ book.

5. It is _____ aircraft.



6. It is _____ rocket.

7. It is _____ acorn.



8. It is _____ candle.
























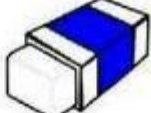
9. It is _____ mailbox.



10. It is _____ iguana.



a / an

- | | | | | | | | |
|----|-------------------------------------------------------------------------------------|-------|------------|----|--------------------------------------------------------------------------------------|-------|---------|
| 1 |  | | orange | 13 |  | | igloo |
| 2 |  | | apple | 14 |  | | giraffe |
| 3 |  | | umbrella | 15 |  | | banana |
| 4 |  | | rabbit | 16 |  | | uncle |
| 5 |  | | bus | 17 |  | | flower |
| 6 |  | | university | 18 |  | | ear |
| 7 |  | | desk | 19 |  | | bear |
| 8 |  | | elephant | 20 |  | | ring |
| 9 |  | | sheep | 21 |  | | arm |
| 10 |  | | lemon | 22 |  | | farmer |
| 11 |  | | egg | 23 |  | | eye |
| 12 |  | | uniform | 24 |  | | eraser |

Phonics Study Guide

Short Vowel Sound

Complete the words with correct vowel sounds

a e i o u

1. r__ng



5. __gloo



2. fr__g



6. b__x



3. s__n



7. b__ll



4. b__n



8. b__g




Short Vowel Sound

Complete the words with correct vowel sounds

a e i o u

9. c _ p




13. s _ cks



10. p _ t




14. f _ n



11. t _ ck



15. r _ ck



12. _ wl

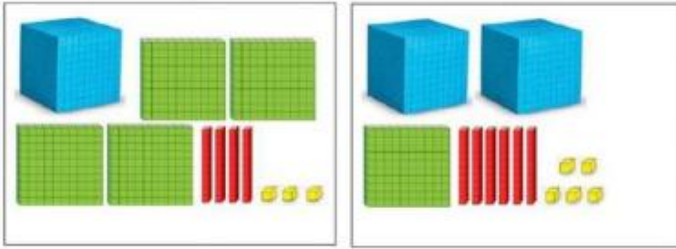


16. s _ x

6

Guía de Estudio de Matemáticas

1. Observe la representación gráfica, luego escribe el número ubicando cada cifra en el tablero posicional.



Um	C	D	U

Um	C	D	U

3. Resuelva

Instrucciones: Completa la tabla escribiendo el número antecesor y sucesor de cada número.

Antecesor	Número	Sucesor
	3,578	
	6,899	
	1,000	
	4,099	
	5,220	



El **antecesor** es el número que está justo antes de él.
El **sucesor** es el número que está inmediatamente después de él.

2. Completa la descomposición de cada número.

$$7\ 392 = \square \text{ Um} + 3 \text{ C} + \square \text{ D} + \square \text{ U}$$

$$7\ 000 + \square + \square + \square$$

Escribe en letras el número:

4. Resuelva: coloca <, >, o = según corresponda

756		931
908		809
560		506
339		393
607		607
454		569
932		952

5. Complete el Patrón numérico.



6. Resuelve las siguientes sumas.

$$\begin{array}{r} 794 \\ + 123 \\ \hline \end{array}$$

$$\begin{array}{r} 286 \\ + 567 \\ \hline \end{array}$$

$$\begin{array}{r} 435 \\ + 269 \\ \hline \end{array}$$

$$\begin{array}{r} 578 \\ + 360 \\ \hline \end{array}$$